


4. Ширина прямоугольника 4 см, что на 3 см меньше его длины. Найди периметр и площадь этого прямоугольника. Выполни чертёж.



5. Вычисли используя запись в столбик:

$36 + 78$

$542 + 286$

$954 - 259$


$567 - 348$

$427 + 356$

$169 + 534$

$800 - 424$

$405 - 183$



6. Найди и исправь ошибки:

а) Произведение чисел 7 и 8 равно 54;

б) 9 больше 45 в 5 раз;


в) 9 увеличить на 8 – получится 72;

г) 16 уменьшить на 8 – получится 8.

10. Начерти незамкнутую ломаную линию, состоящую из 4 звеньев. Её длина должна быть 11 см.

11. Реши задачу. Начерти схему.

На экскурсию поехали 194 ученика школы. Они разместились в трёх больших автобусах по 42 человека в каждом и в двух маленьких поровну. Сколько человек ехало в каждом маленьком автобусе?



12. Реши задачу.

Вдоль прямой дороги поставили 4 столба на равном расстоянии друг от друга. Расстояние между первым и последним столбом равно 120 м. Сколько метров между каждыми двумя соседними столбами?

Ответ: _____ метров.