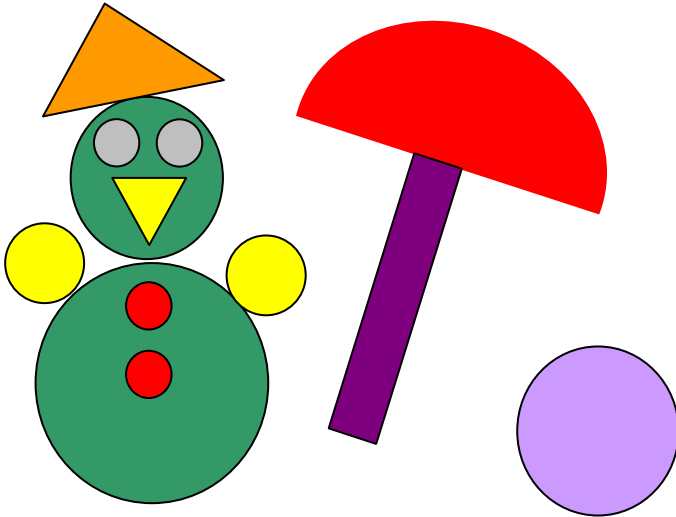


**Вступительная работа
по МАТЕМАТИКЕ
во 2 класс
Демоверсия**

1. Сколько кругов на рисунке?



Ответ: _____.

В ответ запиши только число.

2. Рассмотрите фигуры, которые сложены из одинаковых палочек по определённому правилу.



Сколько таких палочек понадобится, чтобы сложить следующую фигуру по этому правилу?

Ответ: _____

В ответ запиши только число.

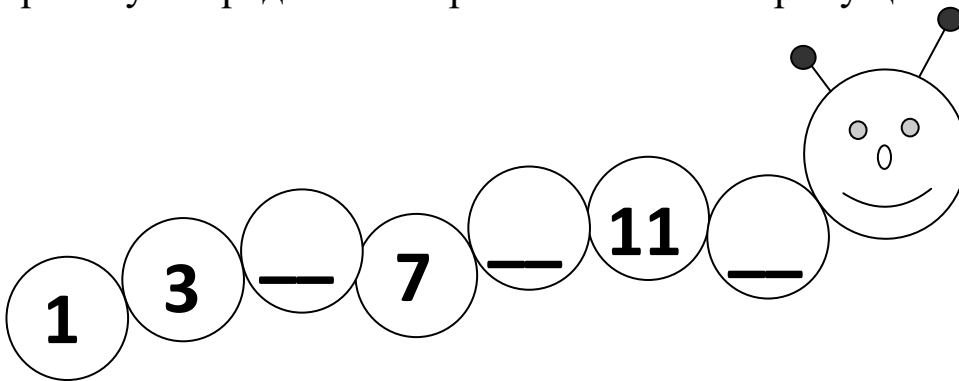
3. У Насти было 6 цветных мелков. Папа купил ей ещё 5 мелков (в коробке). **Сколько** всего мелков стало у Насти?



Отметь знаком выбранный ответ.

 9 13 12 11

4. На математической гусенице числа записаны по определённом правилу. Определи это правило и впиши пропущенные числа.

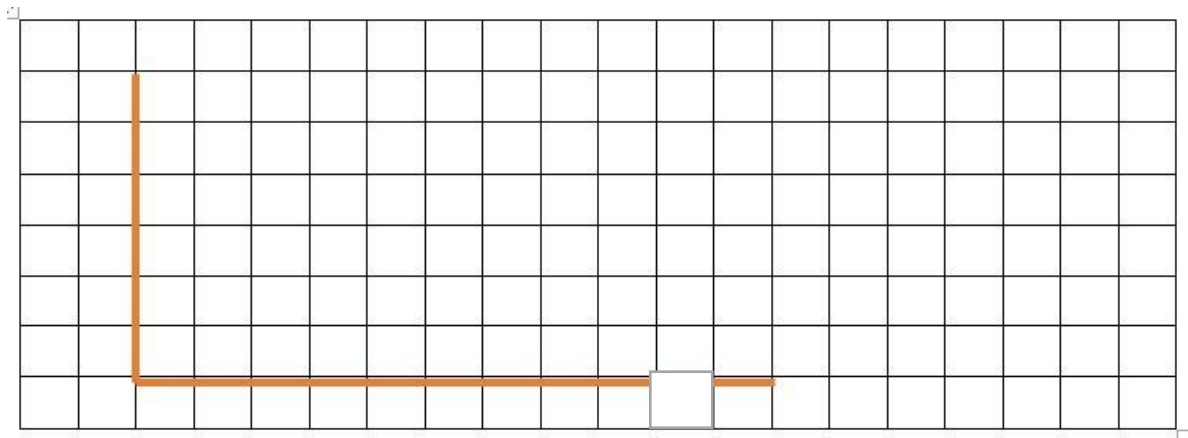


5. У Пети 10 магнитиков, а у Коли на 8 магнитиков больше. Сколько магнитиков у Коли?

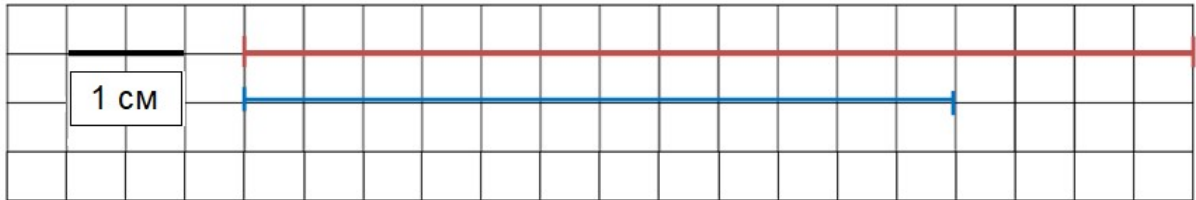
Ответ: _____ магнитиков.

В ответ запиши *только* число.

7. С помощью линейки и карандаша дострой данную фигуру так, чтобы получился прямоугольник. Вычисли его периметр.



Рассмотри рисунок. Запиши длину отрезков в сантиметрах.







На сколько сантиметров нижний отрезок короче верхнего отрезка?
Отметь знаком \surd верный ответ.

- на 2 см на 8 см на 4 см на 6 см

8. Света рисует деревья по правилу. Определи это правило и нарисуй нужное количество веточек и кругов в пустом квадрате.



9. Дети собирали на грядке огурцы и помидоры. Сколько огурцов собрал Миша? Сколько помидоров собрал Костя?

Имя	Огурцы	Помидоры
Миша		
Костя		

Ответ: Миша собрал ____ огурцов,

Костя собрал ____ помидоров.

В ответ запиши только число.

10. Ученики записали величины 7 см, 4 дм, 14 см в порядке возрастания и получили разные ответы. Отметь верный ответ знаком .

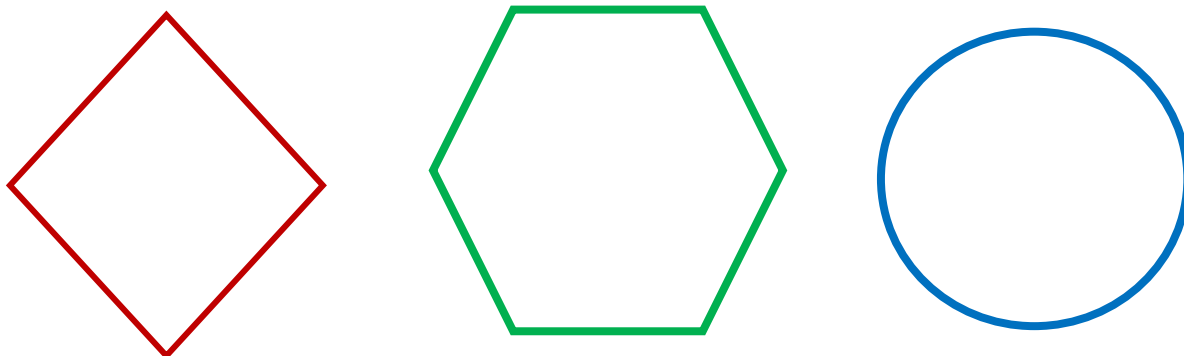
14 см, 7 см, 4 дм

7 см, 4 дм, 14 см

7 см, 14 см, 4 дм

4 дм, 14 см, 7 см

13. Рассмотрите геометрические фигуры.



Отметьте верный ответ знаком .

Верно ли, что:

А) все фигуры – многоугольники?

Да Нет

Б) круг расположен справа от многоугольника?

Да Нет

В) у двух фигур есть углы?

Да Нет

14. Рассмотрите таблицу.

В таблице записано, какие книги любят читать первоклассники.

Книги	Мальчики (человек)	Девочки (человек)
Рассказы о животных	11	7
Сказки	9	9
Рассказы о детях	5	8

